

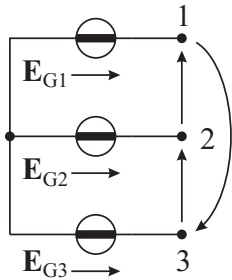
Esercizi di Elettrotecnica

Sistemi trifase

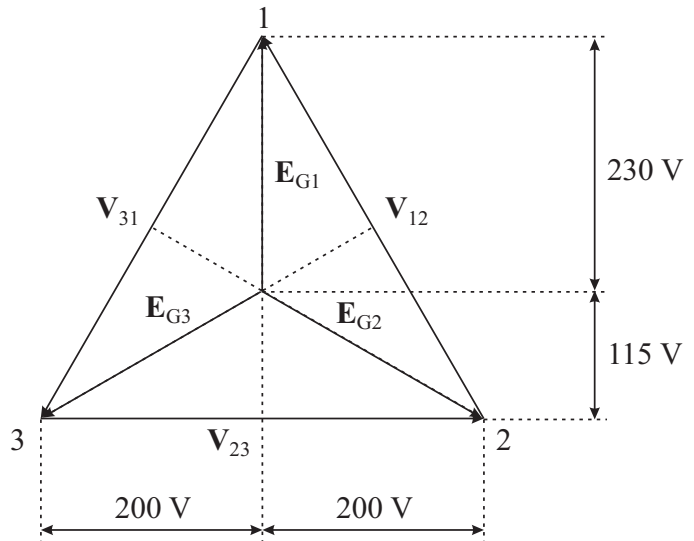
www.die.ing.unibo.it/pers/mastri/didattica.htm

(versione del 9-5-2019)

Esercizio n. 1



$$v_{23}(t) = 400\sqrt{2} \cos(\omega t) \text{ V}$$



Costruzione grafica approssimata ($400/\sqrt{3} \cong 230$)

Le tensioni concatenate formano una terna simmetrica diretta. Nota $v_{23}(t)$, determinare i fasori delle tensioni concatenate e delle tensioni dei generatori.

Risultati

$$V_{12} = -200 + 345j \text{ V}$$

$$V_{23} = 400 \text{ V}$$

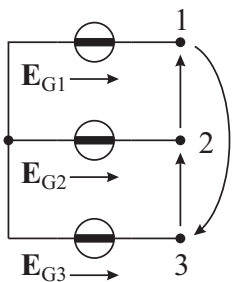
$$V_{31} = -200 - 345j \text{ V}$$

$$E_{G1} = 230j \text{ V}$$

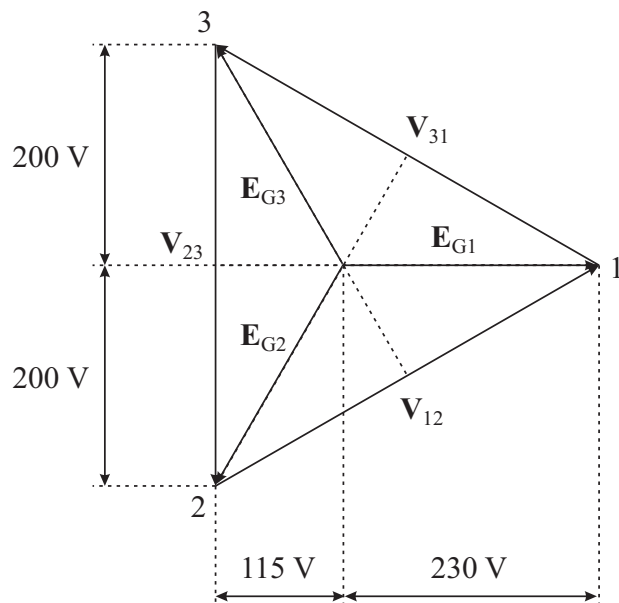
$$E_{G2} = 200 - 115j \text{ V}$$

$$E_{G3} = -200 - 115j \text{ V}$$

Esercizio n. 2



$$e_{G1}(t) = 230\sqrt{2} \cos(\omega t) \text{ V}$$



Costruzione grafica approssimata ($400/\sqrt{3} \cong 230$)

Le tensioni dei generatori costituiscono una terna simmetrica diretta. Nota $e_{G1}(t)$, determinare i fasori delle tensioni concatenate e delle tensioni dei generatori.

Risultati

$$V_{12} = 345 + 200j \text{ V}$$

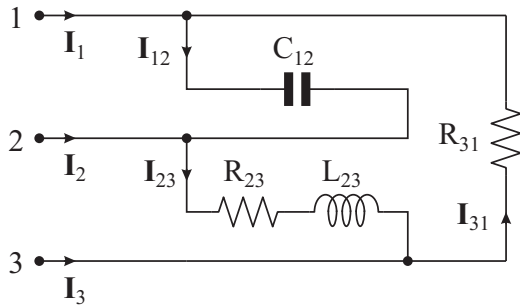
$$V_{23} = -400j \text{ V}$$

$$V_{31} = -345 + 200j \text{ V}$$

$$E_{G1} = 230 \text{ V}$$

$$E_{G2} = -115 - 200j \text{ V}$$

$$E_{G3} = -115 + 200j \text{ V}$$

Esercizio n. 3

$$1/\omega C_{12} = 5 \Omega$$

$$R_{23} = 5 \Omega$$

$$\omega L_{23} = 5 \Omega$$

$$R_{31} = 5 \Omega$$

$$V_e = 400 \text{ V}$$

Le tensioni concatenate formano una terna simmetrica diretta con valore efficace 400 V. Assumendo nulla la fase di V_{23} , determinare i fasori delle correnti di fase e delle correnti di linea.

Risultati

$$I_{12} = -69 - 40j \text{ A}$$

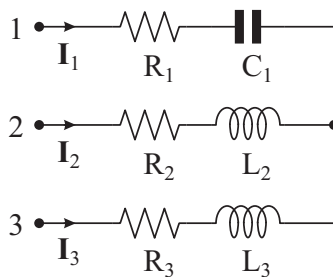
$$I_{23} = 40 - 40j \text{ A}$$

$$I_{31} = -40 - 69j \text{ A}$$

$$I_1 = -29 + 29j \text{ A}$$

$$I_2 = 109 \text{ A}$$

$$I_3 = -80 - 29j \text{ A}$$

Esercizio n. 4

$$R_1 = 10 \Omega$$

$$1/\omega C_1 = 40 \Omega$$

$$R_2 = 10 \Omega$$

$$\omega L_2 = 20 \Omega$$

$$R_3 = 10 \Omega$$

$$\omega L_3 = 20 \Omega$$

$$V_e = 400 \text{ V}$$

Le tensioni concatenate formano una terna simmetrica diretta con valore efficace 400 V. Assumendo nulla la fase di V_{23} , determinare i fasori delle tensioni di fase e delle correnti di linea.

Risultati

$$E_1 = 92 + 414j \text{ V}$$

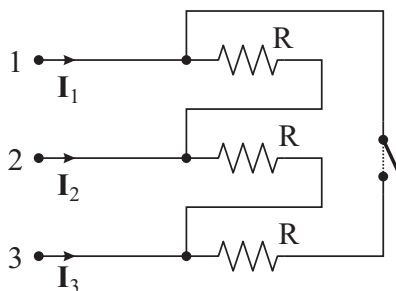
$$E_2 = 292 + 69j \text{ V}$$

$$E_3 = -108 + 69j \text{ V}$$

$$I_1 = -9.2 + 4.6j \text{ A}$$

$$I_2 = 8.6 - 10.3j \text{ A}$$

$$I_3 = 0.6 + 5.7j \text{ A}$$

Esercizio n. 5

$$R = 25 \Omega$$

$$V_e = 400$$

Le tensioni concatenate formano una terna simmetrica diretta con valore efficace 400 V. Assumendo nulla la fase di V_{23} , determinare i fasori delle correnti di linea con l'interruttore aperto e con l'interruttore chiuso.

Risultati

Interruttore aperto

$$I_1 = -8 + 13.8j \text{ A}$$

$$I_2 = 24 - 13.8j \text{ A}$$

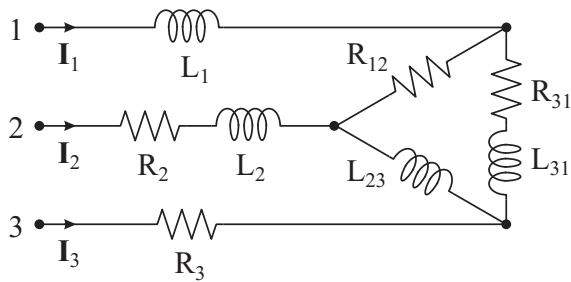
$$I_3 = -16 \text{ A}$$

Interruttore chiuso

$$I_1 = 27.6j \text{ A}$$

$$I_2 = 24 - 13.8j \text{ A}$$

$$I_3 = -24 - 13.8j \text{ A}$$

Esercizio n. 6

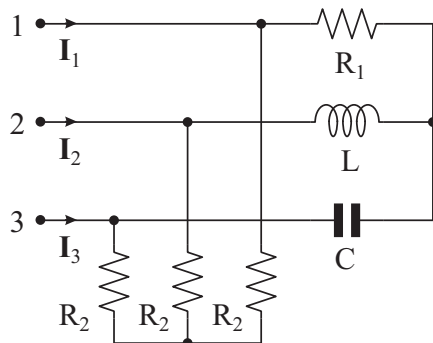
$$\begin{aligned}\omega L_1 &= 10 \Omega \\ R_2 &= 15 \Omega \\ \omega L_2 &= 15 \Omega \\ R_3 &= 10 \Omega \\ E_e &= 230 \text{ V}\end{aligned}$$

$$\begin{aligned}R_{12} &= 20 \Omega \\ \omega L_{23} &= 20 \Omega \\ R_{31} &= 20 \Omega \\ \omega L_{31} &= 20 \Omega\end{aligned}$$

Il sistema è alimentato mediante tre generatori collegati a stella le cui tensioni costituiscono una terna diretta simmetrica con valore efficace 230 V. Assumendo nulla la fase di E_{G1} , determinare i fasori delle correnti di linea e la potenza attiva e reattiva assorbita dal carico.

Risultati

$$\begin{aligned}I_1 &= 8.35 - 12.35j \text{ A} & I_2 &= -9.45 - 2.55j \text{ A} & I_3 &= 1.1 + 14.9j \text{ A} \\ P &= 6371 \text{ W} & Q &= 6371 \text{ Var}\end{aligned}$$

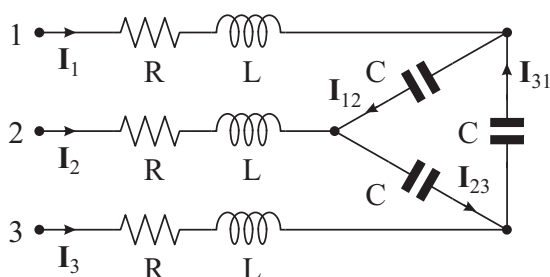
Esercizio n. 7

$$\begin{aligned}R_1 &= 5 \Omega \\ 1/\omega C &= 5 \Omega \\ \omega L &= 5 \Omega \\ R_2 &= 5 \Omega \\ V_e &= 400 \text{ V}\end{aligned}$$

Le tensioni concatenate formano una terna simmetrica diretta con valore efficace 400 V. Assumendo nulla la fase di V_{23} , determinare i fasori delle correnti di linea e la potenza attiva e reattiva assorbita dal carico.

Risultati

$$\begin{aligned}I_1 &= 126j \text{ A} & I_2 &= 51 - 63j \text{ A} & I_3 &= -51 - 63j \text{ A} \\ P &= 63.87 \text{ kW} & Q &= 0 \text{ Var}\end{aligned}$$

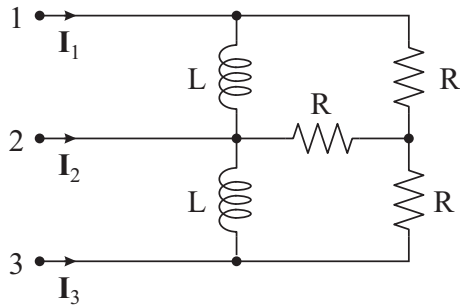
Esercizio n. 8

$$\begin{aligned}R &= 5 \Omega \\ \omega L &= 5 \Omega \\ 1/\omega C &= 30 \Omega \\ V_e &= 400 \text{ V}\end{aligned}$$

Le tensioni concatenate formano una terna simmetrica diretta con valore efficace 400 V. Assumendo nulla la fase di V_{23} , determinare i fasori delle correnti di linea e delle correnti dei condensatori.

Risultati

$$\begin{aligned}I_1 &= -23 + 23j \text{ A} & I_2 &= 31.5 + 8.5j \text{ A} & I_3 &= -8.5 - 31.5j \text{ A} \\ I_{12} &= -18.14 + 4.86j \text{ A} & I_{23} &= 13.3 + 13.34j \text{ A} & I_{31} &= 4.84 - 18.2j \text{ A}\end{aligned}$$

Esercizio n. 9

$$R = 25 \Omega$$

$$\omega L = 50 \Omega$$

$$V_e = 400 \text{ V}$$

Le tensioni concatenate formano una terna simmetrica diretta con valore efficace 400 V. Assumendo nulla la fase di V_{23} , determinare i fasori delle correnti di linea e la potenza attiva e reattiva assorbita dal carico.

Risultati

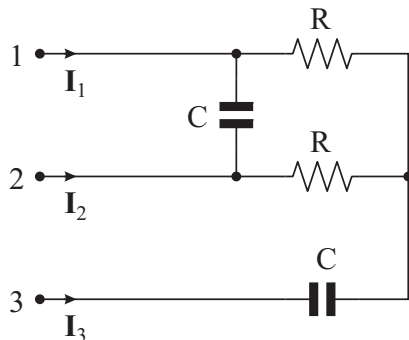
$$I_1 = 6.9 + 13.2j \text{ A}$$

$$P = 6374 \text{ W}$$

$$I_2 = 1.1 - 16.6j \text{ A}$$

$$Q = 6381 \text{ Var}$$

$$I_3 = -8 + 3.4j \text{ A}$$

Esercizio n. 10

$$R = 10 \Omega$$

$$1/\omega C = 10 \Omega$$

$$E_{Ge} = 230 \text{ V}$$

Il sistema è alimentato mediante tre generatori collegati a stella le cui tensioni costituiscono una terna diretta simmetrica con valore efficace 230 V. Assumendo nulla la fase di E_{G1} , determinare i fasori delle correnti di linea e la potenza attiva e reattiva assorbita dal carico.

Risultati

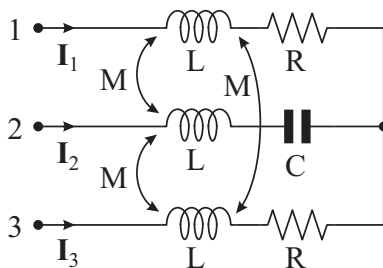
$$I_1 = 12.7 + 45.5j \text{ A}$$

$$P = 12742 \text{ W}$$

$$I_2 = 18.2 - 43.6j \text{ A}$$

$$Q = -25483 \text{ Var}$$

$$I_3 = -30.9 - 1.8j \text{ A}$$

Esercizio n. 11

$$R = 10 \Omega$$

$$1/\omega C = 10 \Omega$$

$$\omega L = 10 \Omega$$

$$\omega M = 5 \Omega$$

$$E_{Ge} = 230 \text{ V}$$

Il sistema è alimentato mediante tre generatori collegati a stella le cui tensioni costituiscono una terna diretta simmetrica con valore efficace 230 V. I tre induttori sono mutuamente accoppiati e tutti i coefficienti di mutua induzione hanno uguale valore M . Assumendo nulla la fase di E_{G1} , determinare i fasori delle correnti di linea e la potenza attiva e reattiva assorbita dal carico.

Risultati

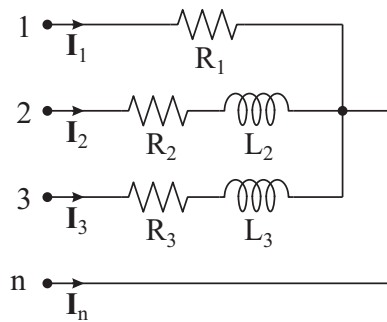
$$I_1 = 11.6 + 16j \text{ A}$$

$$P = 25522 \text{ W}$$

$$I_2 = -3.6 - 61.8j \text{ A}$$

$$Q = -6400 \text{ Var}$$

$$I_3 = -8 + 45.8j \text{ A}$$

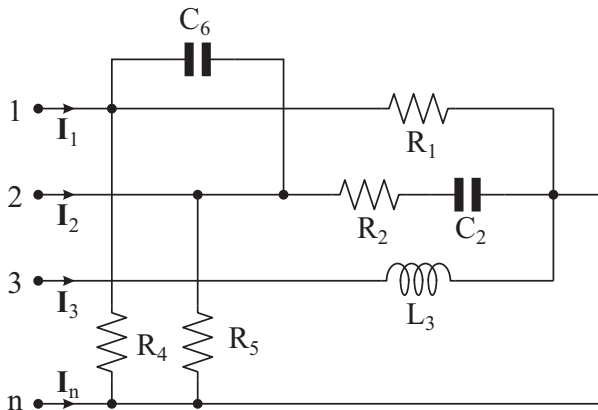
Esercizio n. 12

$$\begin{aligned} R_1 &= 23 \, \Omega \\ R_2 &= 23 \, \Omega \\ \omega L_2 &= 40 \, \Omega \\ R_3 &= 40 \, \Omega \\ \omega L_3 &= 23 \, \Omega \\ E_{Ge} &= 230 \, \text{V} \end{aligned}$$

Il sistema è alimentato mediante tre generatori collegati a stella con neutro le cui tensioni costituiscono una terna diretta simmetrica con valore efficace 230 V. Assumendo nulla la fase di E_{G1} , determinare i fasori delle correnti di linea e la potenza attiva e reattiva assorbita dal carico.

Risultati

$$\begin{aligned} I_1 &= 10 \, \text{A} & I_2 &= -5 \, \text{A} & I_3 &= 5j \, \text{A} & I_n &= -5 - 5j \, \text{A} \\ P &= 3875 \, \text{W} & Q &= 1575 \, \text{Var} \end{aligned}$$

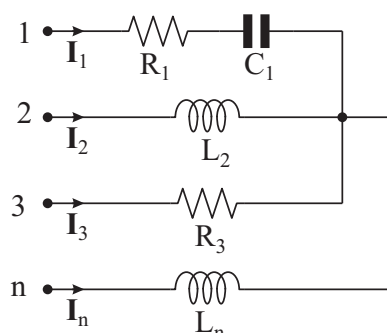
Esercizio n. 13

$$\begin{aligned} R_1 &= 30 \, \Omega \\ R_2 &= 40 \, \Omega \\ 1/\omega C_2 &= 23 \, \Omega \\ \omega L_3 &= 5 \, \Omega \\ R_4 &= 15 \, \Omega \\ R_5 &= 5 \, \Omega \\ 1/\omega C_6 &= 5 \, \Omega \\ E_{Ge} &= 230 \, \text{V} \end{aligned}$$

Il sistema è alimentato mediante tre generatori collegati a stella con neutro le cui tensioni costituiscono una terna diretta simmetrica con valore efficace 230 V. Assumendo nulla la fase di E_{G1} , determinare i fasori delle correnti di linea e la potenza attiva e reattiva assorbita dal carico.

Risultati

$$\begin{aligned} I_1 &= -17 + 69j \, \text{A} & I_2 &= 17 - 114j \, \text{A} & I_3 &= 40 + 23j \, \text{A} & I_n &= -40 + 22j \, \text{A} \\ P &= 16935 \, \text{W} & Q &= 21735 \, \text{Var} \end{aligned}$$

Esercizio n. 14

$$\begin{aligned} R_1 &= 10 \, \Omega \\ 1/\omega C_1 &= 10 \, \Omega \\ \omega L_2 &= 15 \, \Omega \\ R_3 &= 10 \, \Omega \\ \omega L_n &= 5 \, \Omega \\ E_{Ge} &= 230 \, \text{V} \end{aligned}$$

Il sistema è alimentato mediante tre generatori collegati a stella con neutro le cui tensioni costituiscono una terna diretta simmetrica con valore efficace 230V. Assumendo nulla la fase di E_{G1} , determinare i fasori delle correnti di linea e la potenza attiva e reattiva assorbita dal carico.

Risultati

$I_1 = 21.2 + 16.9j \text{ A}$

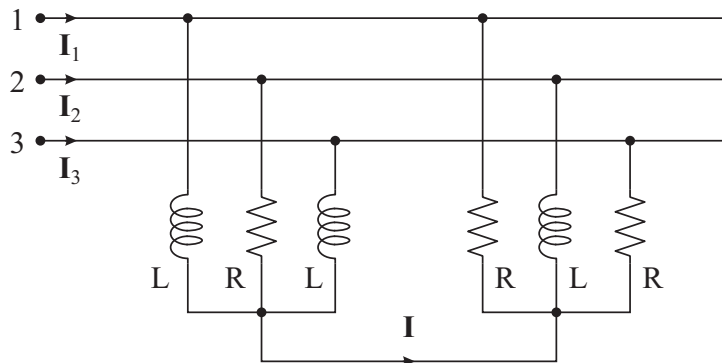
$I_2 = -16.2 - 2.4j \text{ A}$

$I_3 = 3.6 + 15.7j \text{ A}$

$I_n = -8.6 - 30.2j \text{ A}$

$P = 9945 \text{ W}$

$Q = 1603 \text{ Var}$

Esercizio n. 15

$$R = 5 \Omega$$

$$\omega L = 5 \Omega$$

$$V_e = 400 \text{ V}$$

Le tensioni concatenate formano una terna simmetrica diretta con valore efficace 400 V. Assumendo nulla la fase di V_{23} , determinare i fasori delle correnti di linea e della corrente I .

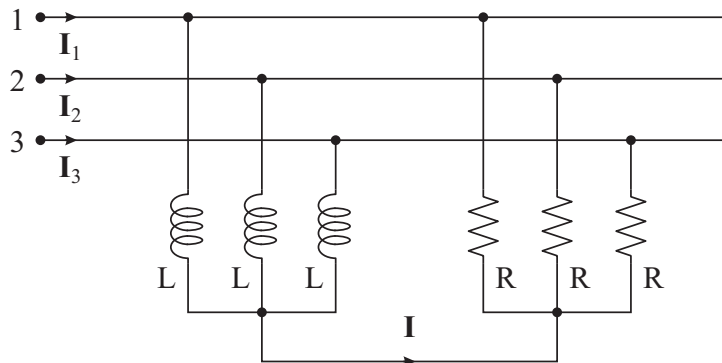
Risultati

$I_1 = 46 + 46j \text{ A}$

$I_2 = 17 - 63j \text{ A}$

$I_3 = -63 + 17j \text{ A}$

$I = 63 + 17j \text{ A}$

Esercizio n. 16

$$R = 5 \Omega$$

$$\omega L = 5 \Omega$$

$$V_e = 400 \text{ V}$$

Le tensioni concatenate formano una terna simmetrica diretta con valore efficace 400 V. Assumendo nulla la fase di V_{23} , determinare i fasori delle correnti di linea e della corrente I .

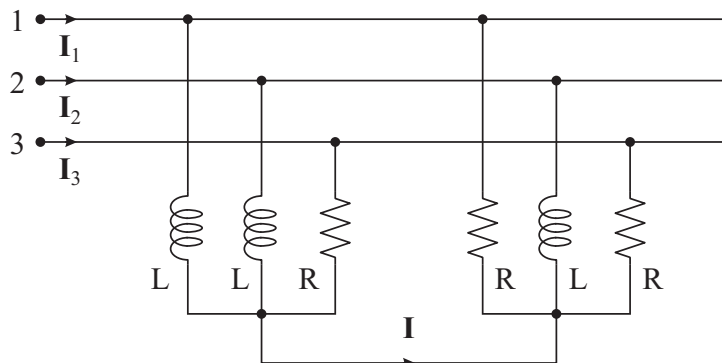
Risultati

$I_1 = 46 + 46j \text{ A}$

$I_2 = 17 - 63j \text{ A}$

$I_3 = -63 + 17j \text{ A}$

$I = 0 \text{ A}$

Esercizio n. 17

$$R = 5 \Omega$$

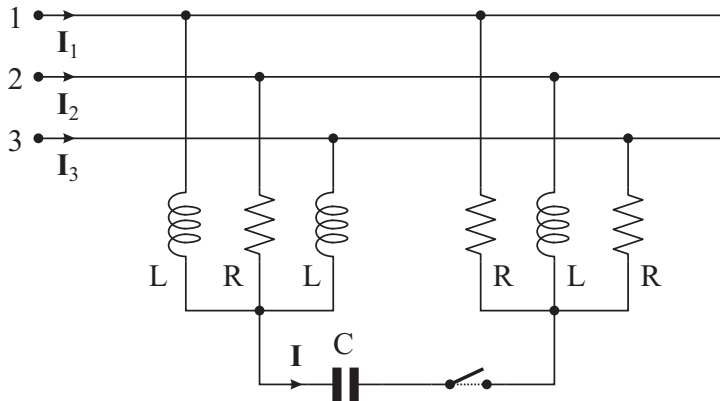
$$\omega L = 5 \Omega$$

$$V_e = 400 \text{ V}$$

Le tensioni concatenate formano una terna simmetrica diretta con valore efficace 400 V. Assumendo nulla la fase di V_{23} , determinare i fasori delle correnti di linea e della corrente I .

Risultati

$$\mathbf{I}_1 = 72.67 + 72.67j \text{ A} \quad \mathbf{I}_2 = 7.33 - 80j \text{ A} \quad \mathbf{I}_3 = -80 + 7.33j \text{ A} \quad \mathbf{I} = 36.33 - 36.33j \text{ A}$$

Esercizio n. 18

$$\begin{aligned} R &= 5 \Omega \\ \omega L &= 5 \Omega \\ 1/\omega C &= 3 \Omega \\ V_e &= 400 \text{ V} \end{aligned}$$

Le tensioni concatenate formano una terna simmetrica diretta con valore efficace 400 V. Assumendo nulla la fase di V_{23} , determinare i fasori delle correnti di linea con l'interruttore aperto, i fasori della corrente \mathbf{I} e delle correnti di linea con l'interruttore chiuso.

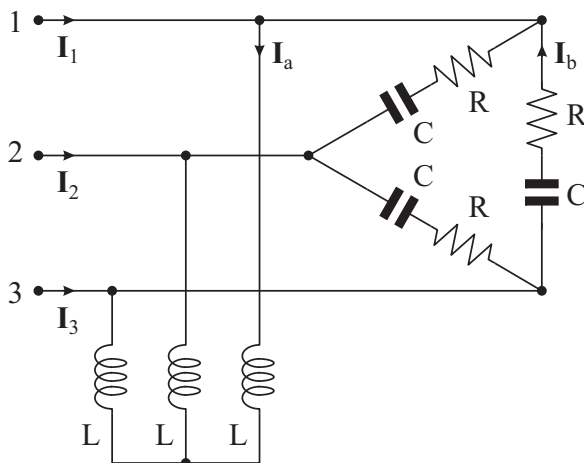
Risultati

Interruttore aperto

$$\mathbf{I}_1 = 39.2 + 71.2j \text{ A} \quad \mathbf{I}_2 = 30.6 - 113.4j \text{ A} \quad \mathbf{I}_3 = -69.8 + 42.2j \text{ A}$$

Interruttore chiuso

$$\mathbf{I}_1 = 71.2 + 52.8j \text{ A} \quad \mathbf{I}_2 = -33.4 - 76.6j \text{ A} \quad \mathbf{I}_3 = -37.8 + 23.8j \text{ A} \quad \mathbf{I} = 46 + 80j \text{ A}$$

Esercizio n. 19

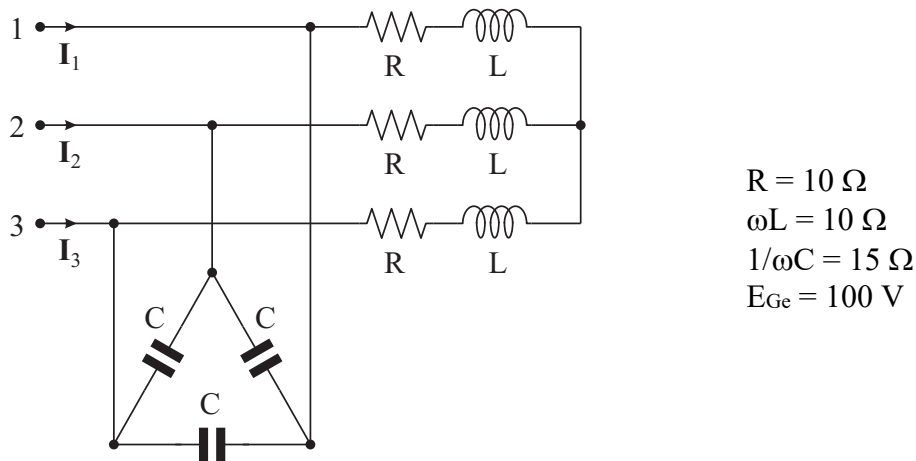
$$\begin{aligned} R &= 30 \Omega \\ 1/\omega C &= 30 \Omega \\ \omega L &= 5 \Omega \\ V_e &= 400 \text{ V} \end{aligned}$$

Le tensioni concatenate formano una terna simmetrica diretta con valore efficace 400 V. Determinare:

- il valore efficace delle correnti di linea;
- i valori efficaci delle correnti \mathbf{I}_a , \mathbf{I}_b ;
- la potenza attiva e reattiva assorbita dal carico.

Risultati

$$\begin{aligned} I_e &= 36.37 \text{ A} & I_{ae} &= 46 \text{ A} & I_{be} &= 9.39 \text{ A} \\ P &= 7.94 \text{ kW} & Q &= 23.8 \text{ kVar} \end{aligned}$$

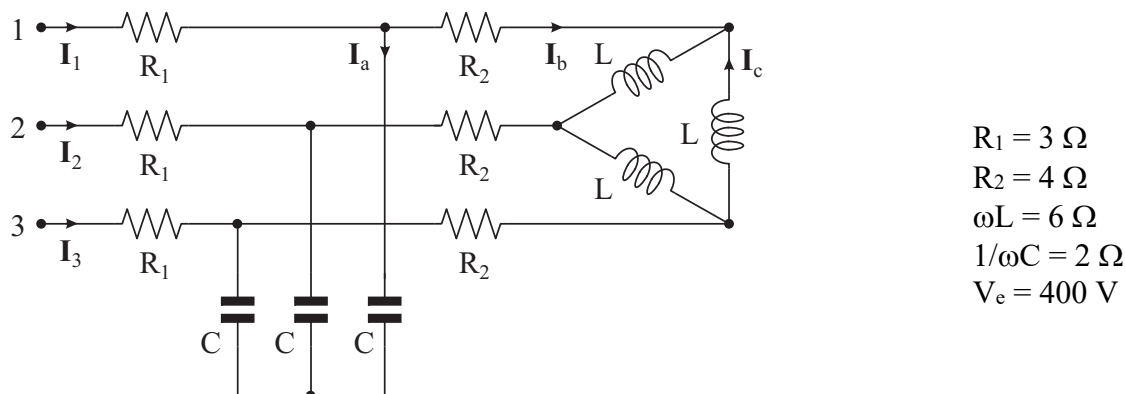
Esercizio n. 20

Il sistema è alimentato mediante tre generatori collegati a stella le cui tensioni costituiscono una terna diretta simmetrica con valore efficace 100 V. Determinare:

- il valore efficace delle correnti di linea;
- la potenza attiva e reattiva assorbita dal carico.

Risultato

$$I_e = 15.81 \text{ A} \qquad P = 1.5 \text{ kW} \qquad Q = -4.5 \text{ kVar}$$

Esercizio n. 21

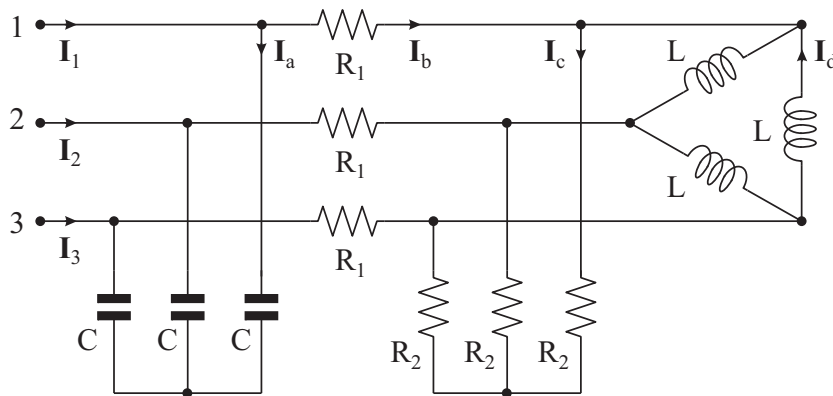
Le tensioni concatenate formano una terna simmetrica diretta con valore efficace 400 V. Determinare:

- il valore efficace delle correnti di linea;
- i valori efficaci delle correnti I_a , I_b , I_c ;
- la potenza attiva e reattiva assorbita dal carico.

Risultati

$$I_e = 51.43 \text{ A} \qquad I_{ae} = 57.5 \text{ A} \qquad I_{be} = 25.72 \text{ A} \qquad I_{ce} = 14.85 \text{ A}$$

$$P = 31.74 \text{ kW} \qquad Q = -15.87 \text{ kVar}$$

Esercizio n. 22

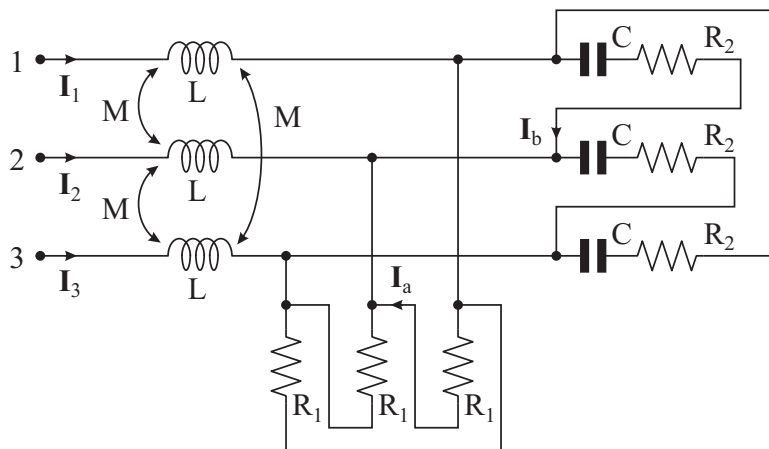
$$\begin{aligned} R_1 &= 10 \, \Omega \\ R_2 &= 50 \, \Omega \\ \omega L &= 75 \, \Omega \\ 1/\omega C &= 20 \, \Omega \\ V_e &= 400 \, \text{V} \end{aligned}$$

Le tensioni concatenate formano una terna simmetrica diretta con valore efficace 400 V. Determinare:

- il valore efficace delle correnti di linea;
- i valori efficaci delle correnti I_a , I_b , I_c , I_d ;
- la potenza attiva e reattiva assorbita dal carico.

Risultati

$$\begin{aligned} I_e &= 8.13 \, \text{A} & I_{ae} &= 11.5 \, \text{A} & I_{be} &= 8.13 \, \text{A} & I_{ce} &= 3.64 \, \text{A} & I_{de} &= 4.2 \, \text{A} \\ P &= 3968 \, \text{W} & Q &= -3968 \, \text{Var} \end{aligned}$$

Esercizio n. 23

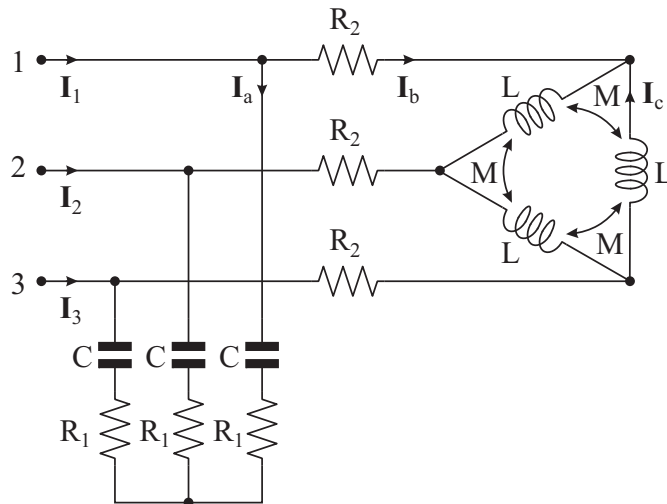
$$\begin{aligned} \omega L &= 12 \, \Omega \\ \omega M &= 4 \, \Omega \\ R_1 &= 60 \, \Omega \\ R_2 &= 30 \, \Omega \\ 1/\omega C &= 30 \, \Omega \\ V_e &= 400 \, \text{V} \end{aligned}$$

Le tensioni concatenate formano una terna simmetrica diretta con valore efficace 400 V. I tre induttori sono mutuamente accoppiati e tutti i coefficienti di mutua induzione hanno uguale valore M. Determinare:

- il valore efficace delle correnti di linea;
- i valori efficaci delle correnti I_a , I_b ;
- la potenza attiva e reattiva assorbita dal carico.

Risultati

$$\begin{aligned} I_e &= 25.72 \, \text{A} & I_{ae} &= 6.64 \, \text{A} & I_{be} &= 9.39 \, \text{A} \\ P &= 15.87 \, \text{kW} & Q &= 7.94 \, \text{kVar} \end{aligned}$$

Esercizio n. 24

$$\begin{aligned} R_1 &= 8 \, \Omega \\ 1/\omega C &= 4 \, \Omega \\ R_2 &= 4 \, \Omega \\ \omega L &= 30 \, \Omega \\ \omega M &= 6 \, \Omega \\ V_e &= 400 \, \text{V} \end{aligned}$$

Le tensioni concatenate formano una terna simmetrica diretta con valore efficace 400 V. I tre induttori sono mutuamente accoppiati e tutti i coefficienti di mutua induzione hanno uguale valore M. Determinare:

- il valore efficace delle correnti di linea;
- i valori efficaci delle correnti I_a , I_b , I_c ;
- la potenza attiva e reattiva assorbita dal carico.

Risultati

$$I_e = 36.37 \, \text{A}$$

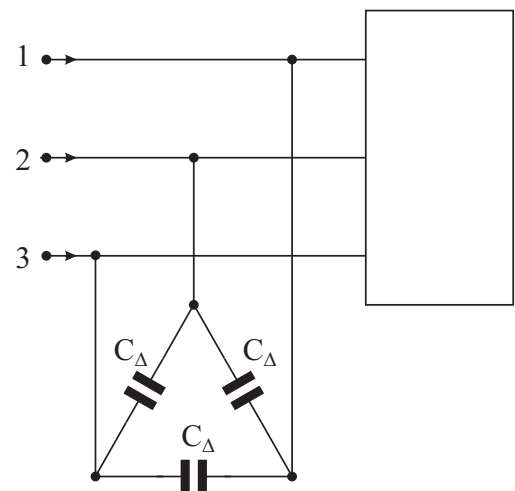
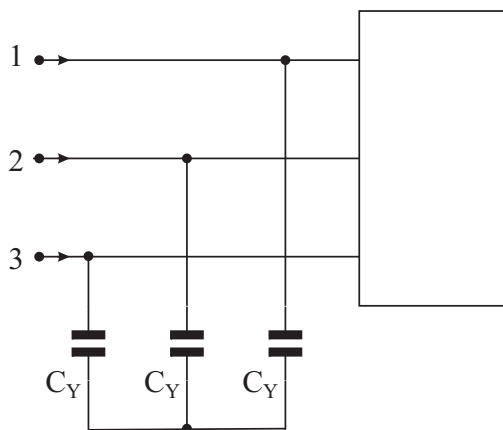
$$I_{ae} = 25.72 \, \text{A}$$

$$I_{be} = 25.72 \, \text{A}$$

$$I_{ce} = 14.85 \, \text{A}$$

$$P = 23.81 \, \text{kW}$$

$$Q = 7.94 \, \text{kVar}$$

Esercizio n. 25

$$P = 50 \, \text{kW}$$

$$Q = 50 \, \text{kVar}$$

$$V_e = 400 \, \text{V}$$

$$f = 50 \, \text{Hz}$$

Le tensioni concatenate formano una terna simmetrica diretta con valore efficace 400 V. Assumendo che il carico sia regolare, determinare:

- il valore delle capacità di rifasamento necessarie per ottenere un fattore di potenza pari a 0.95, sia nel caso di collegamento a stella che nel caso di collegamento a triangolo;
- il valore efficace delle correnti di linea in assenza (I_{e0}) e in presenza (I_{e1}) dei condensatori di rifasamento.

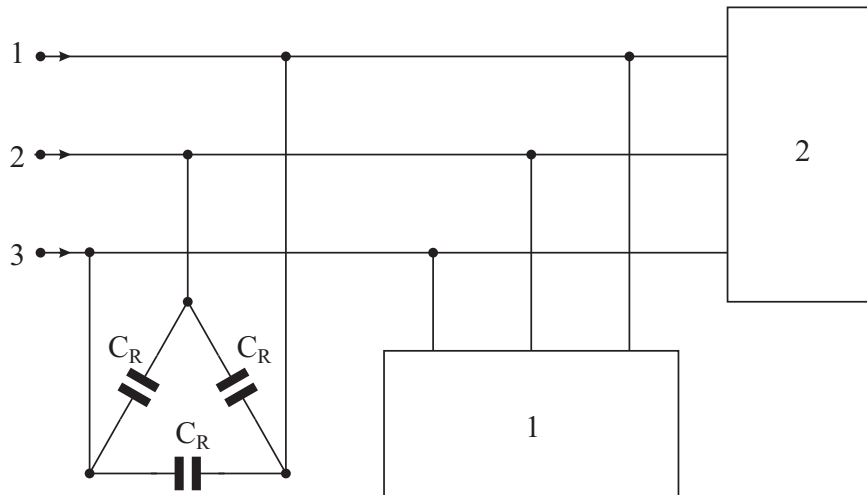
Risultati

$$C_Y = 668 \, \mu\text{F}$$

$$C_\Delta = 223 \, \mu\text{F}$$

$$I_{e0} = 102 \, \text{A}$$

$$I_{e1} = 76 \, \text{A}$$

Esercizio n. 26

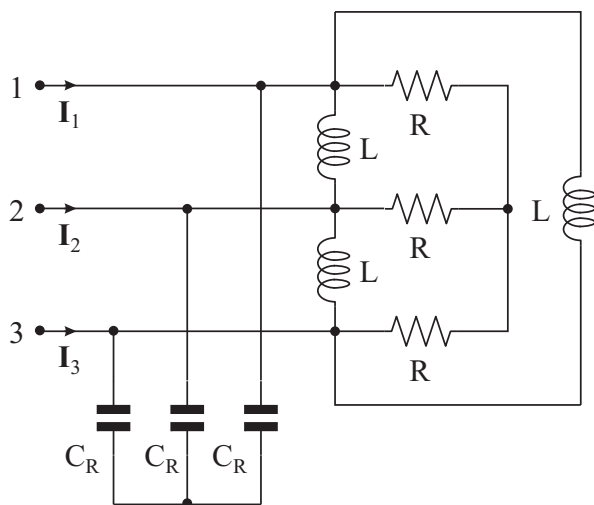
$$\begin{aligned}
 S_1 &= 30 \text{ kVA} \\
 \cos \varphi_1 &= 0.6 \text{ (ritardo)} \\
 P_2 &= 16 \text{ kW} \\
 \cos \varphi_2 &= 0.8 \text{ (ritardo)} \\
 V_e &= 400 \text{ V} \\
 f &= 50 \text{ Hz}
 \end{aligned}$$

Le tensioni concatenate formano una terna simmetrica diretta con valore efficace 400 V. Assumendo che i due carichi siano regolari, determinare:

- il fattore di potenza del carico complessivo;
- il valore delle capacità di rifasamento necessarie per ottenere un fattore di potenza pari a 0.9;
- il valore efficace delle correnti di linea in assenza (I_{e0}) e in presenza (I_{e1}) dei condensatori di rifasamento.

Risultati

$$C_R = 130 \mu\text{F} \qquad I_{e0} = 71.47 \text{ A} \qquad I_{e1} = 54.53 \text{ A}$$

Esercizio n. 27

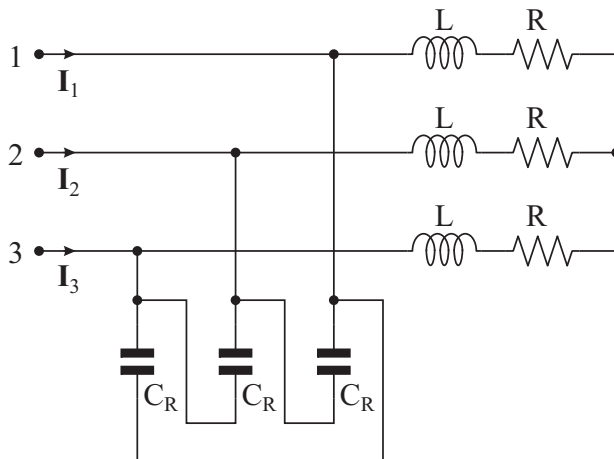
$$\begin{aligned}
 R &= 10 \Omega \\
 \omega L &= 15 \Omega \\
 E_{Ge} &= 100 \text{ V} \\
 f &= 50 \text{ Hz}
 \end{aligned}$$

Il sistema è alimentato mediante tre generatori collegati a stella le cui tensioni costituiscono una terna diretta simmetrica con valore efficace 100 V. Determinare:

- la potenza attiva e reattiva assorbita dal carico in assenza dei condensatori di rifasamento;
- il fattore di potenza del carico in assenza dei condensatori di rifasamento;
- il valore delle capacità di rifasamento necessarie per ottenere un fattore di potenza pari a 0.95;
- il valore efficace delle correnti di linea in assenza (I_{e0}) e in presenza (I_{e1}) dei condensatori di rifasamento.

Risultati

$$P = 3 \text{ kW} \qquad Q = 6 \text{ kVar} \qquad \cos \varphi = 0.447 \qquad C_R = 532 \mu\text{F} \qquad I_{e0} = 22.36 \text{ A} \qquad I_{e1} = 10.53 \text{ A}$$

Esercizio n. 28

$$R = 69 \, \Omega$$

$$\omega L = 92 \, \Omega$$

$$V_e = 400 \, \text{V}$$

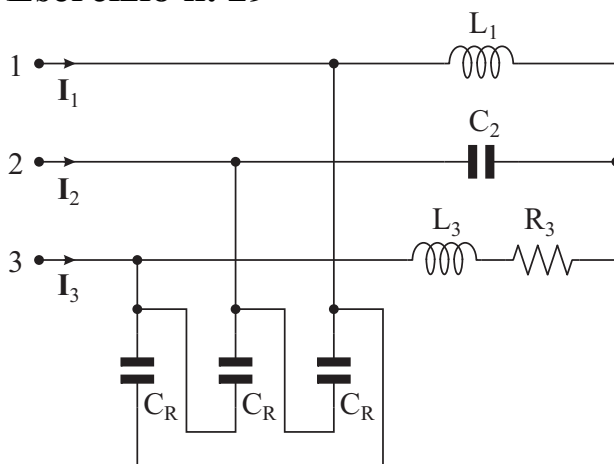
$$f = 50 \, \text{Hz}$$

Le tensioni concatenate formano una terna simmetrica diretta con valore efficace 400 V. Determinare:

- la potenza attiva e reattiva assorbita dal carico in assenza dei condensatori di rifasamento;
- il fattore di potenza del carico in assenza dei condensatori di rifasamento;
- il valore delle capacità di rifasamento necessarie per ottenere un fattore di potenza pari a 0.95;
- il valore efficace delle correnti di linea in assenza (I_{e0}) e in presenza (I_{e1}) dei condensatori di rifasamento.

Risultati

$$P = 828 \, \text{W} \quad Q = 1104 \, \text{Var} \quad \cos\varphi = 0.6 \quad C_R = 5.52 \, \mu\text{F} \quad I_{e0} = 2 \, \text{A} \quad I_{e1} = 1.33 \, \text{A}$$

Esercizio n. 29

$$\omega L_1 = 50 \, \Omega$$

$$1/\omega C_2 = 100 \, \Omega$$

$$R_3 = 150 \, \Omega$$

$$\omega L_3 = 50 \, \Omega$$

$$V_e = 400 \, \text{V}$$

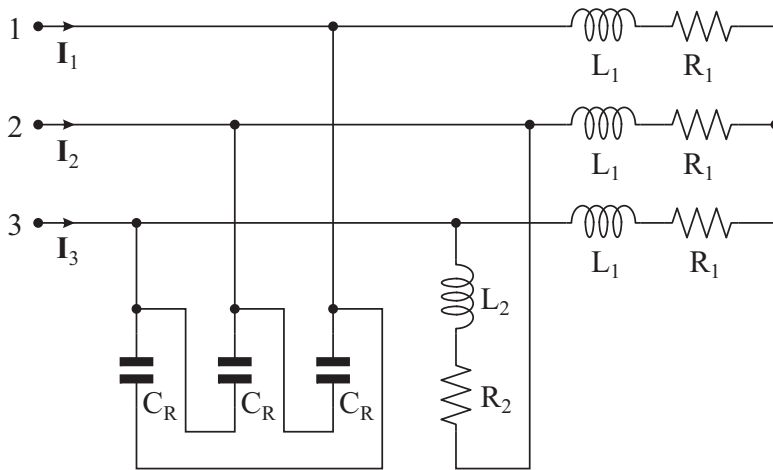
$$f = 50 \, \text{Hz}$$

Le tensioni concatenate formano una terna simmetrica diretta con valore efficace 400 V. Determinare:

- la potenza attiva e reattiva assorbita dal carico in assenza dei condensatori di rifasamento;
- il fattore di potenza del carico in assenza dei condensatori di rifasamento;
- il valore delle capacità di rifasamento necessarie per ottenere un fattore di potenza pari a 0.9.

Risultati

$$P = 1587 \, \text{W} \quad Q = 1594 \, \text{Var} \quad \cos\Phi = 0.706 \quad C_R = 5.5 \, \mu\text{F}$$

Esercizio n. 30

$$\begin{aligned} R_1 &= 5 \, \Omega \\ \omega L_1 &= 5 \, \Omega \\ R_2 &= 5 \, \Omega \\ \omega L_2 &= 15 \, \Omega \\ V_e &= 400 \, \text{V} \\ f &= 50 \, \text{Hz} \end{aligned}$$

Le tensioni concatenate formano una terna simmetrica diretta con valore efficace 400 V. Determinare:

- la potenza attiva e reattiva assorbita dal carico in assenza dei condensatori di rifasamento;
- il fattore di potenza del carico in assenza dei condensatori di rifasamento;
- il valore delle capacità di rifasamento necessarie per ottenere un fattore di potenza pari a 0.93.

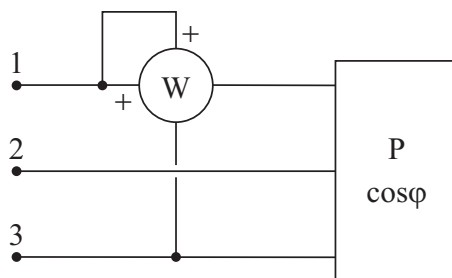
Risultati

$$P = 19.14 \, \text{kW}$$

$$Q = 25.54 \, \text{kVar}$$

$$\cos\Phi = 0.6$$

$$C_R = 120 \, \mu\text{F}$$

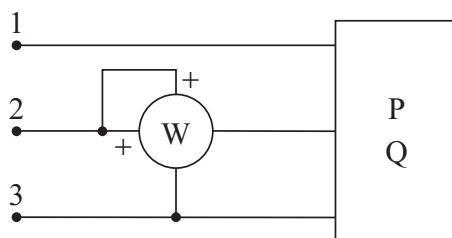
Esercizio n. 31

$$\begin{aligned} V_e &= 1500 \, \text{V} \\ P &= 42 \, \text{kW} \\ \cos\varphi &= 0.8 \end{aligned}$$

Le tensioni concatenate formano una terna simmetrica diretta con valore efficace 1500 V, il carico è regolare e assorbe una potenza attiva di 42 kW con fattore di potenza 0.8. Determinare l'indicazione del wattmetro.

Risultato

$$P_W = 30 \, \text{kW}$$

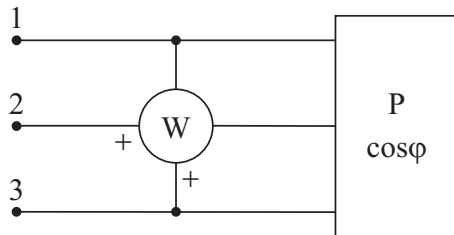
Esercizio n. 32

$$\begin{aligned} V_e &= 400 \, \text{V} \\ P &= 5.2 \, \text{kW} \\ Q &= 7.2 \, \text{kVar} \end{aligned}$$

Le tensioni concatenate formano una terna simmetrica diretta con valore efficace 400 V, il carico è regolare e assorbe una potenza attiva di 5.2 kW e una potenza reattiva di 7.2 kVar. Determinare l'indicazione del wattmetro.

Risultato

$$P_W = 622 \text{ W}$$

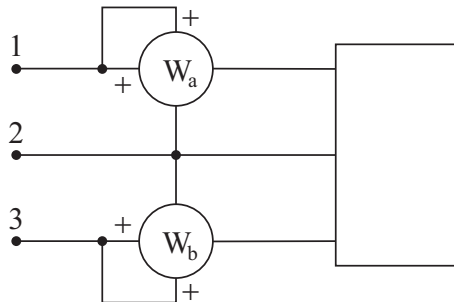
Esercizio n. 33

$$\begin{aligned} V_e &= 400 \text{ V} \\ P &= 30 \text{ kW} \\ \cos\varphi &= 0.866 \end{aligned}$$

Le tensioni concatenate formano una terna simmetrica diretta con valore efficace 400 V, il carico è regolare e assorbe una potenza attiva di 30 kW con fattore di potenza 0.866. Determinare l'indicazione del wattmetro.

Risultato

$$P_W = 10 \text{ kW}$$

Esercizio n. 34

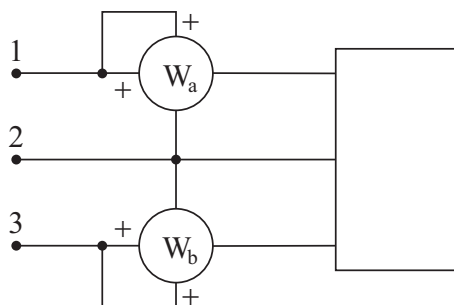
$$\begin{aligned} P &= 27 \text{ kW} \\ P_{W_a} &= 9 \text{ kW} \end{aligned}$$

Il sistema è simmetrico ed equilibrato. Nota la potenza attiva P assorbita dal carico e l'indicazione del wattmetro W_a , determinare l'indicazione del wattmetro W_b e la potenza reattiva assorbita dal carico.

Risultati

$$P_{W_b} = 18 \text{ kW}$$

$$Q = 15.59 \text{ kVar}$$

Esercizio n. 35

$$P_{W_b} = 2P_{W_a}$$

Il sistema è simmetrico ed equilibrato. Determinare il valore del fattore di potenza per cui l'indicazione del wattmetro W_b è il doppio dell'indicazione del wattmetro W_a . Determinare, inoltre, se il carico deve essere ohmico-induttivo o ohmico-capacitivo.

Risultato

$$\cos\varphi = 0.866$$

carico ohmico-induttivo.
